

1. Смешарики красили забор высотой 2 м. За 2 часа Крош покрасил участок забора длиной 5 м. За то же самое время Копатыч покрасил участок забора на 4 м длиннее. Сколько метров квадратных забора покрасили Копатыч с Крошем вместе?


2. Копатыч на участке длиной 8 м и шириной 11 м, разместил ульи на площади 38 м². Сколько свободной земли осталось для посева трав-медоносов на этом участке?

3. Пин готовил участок для обсерватории. Он за 4 часа работы разровнял бульдозером участок площадью 256 м². Какую площадь сможет разровнять бульдозер, если будет работать 12 часов с той же производительностью?

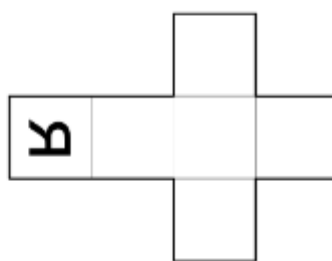

4. Клумба с розами у Нюши имеет длину 36 м, а ширину 20 м. Найдите ширину клумбы с тюльпанами с такой же площадью, если её длина на 6 м меньше длины первой клумбы.

5. А эти задачи приготовил для друзей. Лосяш.

Семь игральных кубиков сложили в фигурку как показано на рисунке. При этом кубики прикладывали друг к другу гранями с одинаковым числом точек. Сколько всего точек на видимых гранях этой конструкции?



Ребенок поставил четыре одинаковых кубика так, что буквы на сторонах кубиков, обращенных к нему, образуют его имя (см. рисунок). Нарисуйте, как расположены остальные буквы на данной развертке кубика, и определите, как зовут ребенка.



		3	2	
2	3		2	
3				
		3		3
	4			

		2	2			2
				2		3
		6		2	2	
5	4					5
	3		2	2		4
		3				